

.....
pieczętka nagłówkowa szkoły

.....
kod pracy ucznia

KONKURS Z HISTORII
DLA UCZNIÓW SZKÓŁ PODSTAWOWYCH
ETAP SZKOLNY

Drogi Uczniu,

witaj w I etapie konkursu z historii. Przeczytaj uważnie instrukcję i postaraj się prawidłowo odpowiedzieć na wszystkie pytania konkursowe.

- Arkusz liczy 15 stron i zawiera 18 zadań.
- Przed rozpoczęciem pracy sprawdź, czy Twój test jest kompletny. Jeżeli zauważysz usterki, zgłoś ten fakt komisji konkursowej.
- Zadania czytaj uważnie i ze zrozumieniem.
- Używaj długopisu/pióra z czarnym/niebieskim tuszem/atramentem.
- Nie używaj korektora/długopisu zmazywającego.
- Dbaj o czytelność pisma i precyzję odpowiedzi.
- Błędną odpowiedź przekreśl.
- Oceniane będą tylko odpowiedzi, które zostały umieszczone w miejscu do tego przeznaczonym lub otoczone kółkiem.
- W zadaniach PRAWDA/FALSZ dokonaj wyboru, czy stwierdzenie jest prawdą czy fałszem.
- Brudnopis nie będzie oceniany.

Czas pracy:

60 minut

Liczba punktów
możliwych
do uzyskania:

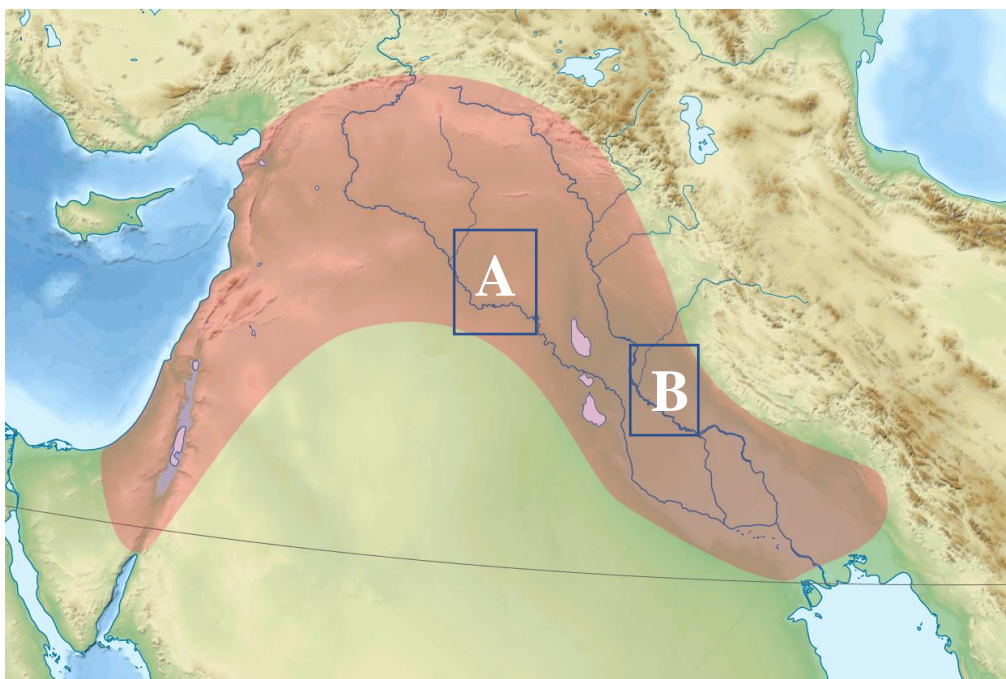
60

Pracuj samodzielnie.

Powodzenia!

Zadanie 1. (0-4 pkt)

Na podstawie mapy i wiedzy własnej odpowiedz na pytania.



(https://pl.wikipedia.org/wiki/...#/media/Plik:Fertile_Crescent.png)

I. Napisz, jak potocznie nazywa się zaznaczony na mapie kolorem czerwonym (ceglastym) obszar –

II. Napisz nazwy wielkich rzek, zaznaczonych na mapie literami:

A.

B.

III. Scharakteryzuj pojęcia:

A. Rewolucja neolityczna –

.....

B. System irygacyjny –

.....

Zadanie 2. (0-1 pkt)

Która z wysp nie należała do starożytnej Grecji. Podkreśl prawidłową odpowiedź.

Lesbos

Kreta

Uznam

Rodos

Delos

Zadanie 3. (0-3 pkt; 1 pkt za prawidłowe uzupełnienie całego podpunktu)

Dopasuj odpowiednio imiona bóstw do danego starożytnego państwa. Odpowiedzi wybierz spośród:

Wenus	Sziwa	Zeus	Apis	Afrodyta	Neptun
		Ozyrys	Perun		

A. Egipt –

B. Grecja –

C. Rzym –

Zadanie 4. (0-4 pkt)

Na podstawie wiedzy własnej napisz pojęcie (historyczną nazwę) przedstawione w poniższej charakterystyce.

A. Pochodzące z języka łacińskiego określenie, oznaczało sposób wyboru króla w Polsce poprzez osobisty udział całej szlachty.

.....

B. Związek państw, oparty na wspólnych instytucjach państwowych – np. połączenie Polski i Litwy na sejmie w Lublinie w XVI w.

.....

C. Była to jedna z zasad kongresu wiedeńskiego, która pozwoliła na powrót do władzy dynastii obalonych przez Napoleona Bonaparte.

.....

D. Byli to członkowie włoskiego tajnego sprzysiężenia zorganizowanego na wzór masonerii, dążącego do zjednoczenia Włoch, zwani także węglarzami.

.....

Zadanie 5. (0-3 pkt)

Wyjaśnij pojęcia.

A. Politeizm –

.....

.....

.....

B. Wielka schizma wschodnia –

.....

.....

.....

C. Płodozmian –

.....

.....

.....

Zadanie 6. (0-5 pkt)

Rycina przedstawia miejsce średniowiecznej bitwy na ziemiach państwa polskiego. Na podstawie obrazu i wiedzy własnej odpowiedz na pytania.

A. Podaj funkcjonującą w historii Polski nazwę tej bitwy –

B. Na podstawie źródła podaj jeden argument, że prawidłowo rozpoznałeś/rozpoznałaś bitwę:

.....

.....

.....

C. Podkreśl właściwą odpowiedź. Miejsce tej bitwy znajdowało się koło:

Krakowa Wrocławia Gdańska Warszawy

D. Podaj datę roczną tej bitwy –

E. Napisz imię i przydomek polskiego władcy, który brał udział w tej bitwie:

.....



(<https://www.ipsb.nina.gov.pl/a/foto/pole-bitwy>)

Zadanie 7. (0-5 pkt)

Rozstrzygnij, która informacja dotycząca Polski Piastów jest PRAWDZIWA [P], a która FAŁSZYWA [F]. Prawidłową odpowiedź otocz kółkiem.

A.	Pierwsze biskupstwo utworzono w Gnieźnie, na czele którego stanął arcybiskup Unger.	P	F
B.	W 1018 r. Bolesław Chrobry zawarł układ z księciem Jarosławem Mądrym, zapewniając Polsce pokój na granicy wschodniej.	P	F
C.	Mieszko II poślubił wnuczkę cesarza, córkę palatyna reńskiego – Rychezę, dzięki czemu wszedł w koligacje rodzinne z najpotężniejszymi rodami ówczesnej Europy.	P	F
D.	W 1054 r. na zjeździe w Kwedlinburgu ostatecznie rozstrzygnięto konflikt polsko-czeski o Śląsk, przydzielając go Polsce, ale pod warunkiem corocznego trybutu na rzecz Czech.	P	F
E.	Bolesław Śmiały poparł politykę obozu antygregoriańskiego, co dało mu silną pozycję wśród państw Europy środkowo-wschodniej.	P	F

Zadanie 8. (0-3 pkt; 1 pkt za prawidłowe uzupełnienie całego podpunktu)

Na podstawie wiedzy własnej dokonaj porównania elementów architektury średniowiecza w stylu romańskim i gotyckim.

	Porównaj:	Styl romański ROMANIZM	Styl gotycki GOTYK
A.	Materiał budowlany
B.	Okna
C.	Bryła budynku

Zadanie 9. (0-1 pkt)

Otocz kółkiem prawidłową odpowiedź.

Do Świętego Przymierza nie należała:

- A. Anglia,
- B. Austria,
- C. Francja,
- D. Rosja.

Zadanie 10. (0–5 pkt; 1 pkt za prawidłowe uzupełnienie całego podpunktu)

Na podstawie wiedzy własnej uzupełnij, w wykropkowanych miejscach w tabeli, brakujące informacje dotyczące bitew.

	Dowódca [dowódcy]	Miejsce bitwy	Rok bitwy	Nazwa państwa, które wygrało i które przegrało bitwę
A	Władysław III Jan Hunyady	<ul style="list-style-type: none"> • Państwo wygrane: Turcja • Państwa przegrane: Polska, Węgry
B	Trzciana	<ul style="list-style-type: none"> • Państwo wygrane: Polska • Państwo przegrane: Szwecja
C	Tadeusz Kościuszko Fiodor Denisow	10 X 1794	<ul style="list-style-type: none"> • Państwo wygrane: • Państwo przegrane:
D	19 IV 1809	<ul style="list-style-type: none"> • Państwa wygrane: Księstwo Warszawskie, Królestwo Saksonii • Państwo przegrane: Cesarstwo Austriackie
E	Jan Skrzynecki Iwan Dybicz	Ostrołęka	<ul style="list-style-type: none"> • Państwo wygrane: • Państwo przegrane:

Zadanie 11. (0–5 pkt)

Napisz krótką notkę biograficzną, która musi zawierać informacje: w którym WIEKU (EPOCE) żyła ta osoba, kim była, Z CZEGO ZASŁYNEŁA w historii.

A. Gajusz Juliusz Cezar –

.....
.....
.....

B. Vasco da Gama –

.....
.....
.....

C. Hugo Kołłątaj –

.....
.....
.....

D. Joachim Lelewel –

.....
.....
.....

E. Simon Boliwar –

.....
.....
.....

Zadanie 12. (0-3 pkt)

Na podstawie wiedzy własnej napisz ROK, w którym miały miejsce poniższe wydarzenia.

A. Ogłoszenie edyktu mediolańskiego, nadającego prawa chrześcijanom w cesarstwie rzymskim:

.....

B. Powstanie Rzeczypospolitej Krakowskiej:

.....

C. Wydanie „Ballad i romansów” A. Mickiewicza – „umowny” początek romantyzmu:

.....

Zadanie 13. (0-5 pkt)

Na podstawie wiedzy własnej napisz IMIĘ i NAZWISKO osoby, o której mówi krótka notka biograficzna.

A. Żył na przełomie XV/XVI w. Był niderlandzkim filologiem, filozofem, pedagogiem, doktorem teologii. Uważał, że człowiek z natury jest dobry, a zło pochodzi z niewiedzy. W utworze „Pochwała głupoty” krytykował wady społeczne. Opracował pierwsze greckie wydanie Nowego Testamentu.

.....

B. Był szkockim inżynierem i wynalazcą, „ojcem rewolucji przemysłowej”. Jego udoskonalona maszyna parowa zapoczątkowała nową erę w gospodarce światowej.

.....

C. W traktacie politycznym „*O skutecznym rad sposobie*” postulował reformę sejmu i zniesienie liberum veto. Stawiał duży nacisk na kształcenie światłych obywateli, a za zasługi został wyróżniony medalem „Sapere auso”.

.....

D. Żył w latach 1801-1890. Był księdzem i polskim działaczem niepodległościowym. Prowadził agitację wśród chłopów na Lubelszczyźnie i Kielecczyźnie, a swoje poglądy dotyczące walki o niepodległość i pełnego uwłaszczenia chłopów rozpowszechniał w kopiowanych ręcznie broszurkach – np. w „Złotej książeczce”. Za działalność konspiracyjną został zesłany na Syberię.

.....

E. Był piątym prezydentem USA i autorem doktryny, która głosiła, że Stany Zjednoczone uważają, że kolonizacja na półkuli zachodniej jest zakończona, a każda próba narzucenia systemów politycznych w państwach Ameryki Południowej, zostanie uznana przez USA za działanie wrogie.

.....

Zadanie 14. (0-3 pkt)

Malarz Eugène Delacroix namalował obraz pod wpływem udziału w rewolucji. Na podstawie obrazu i wiedzy własnej odpowiedz na pytania.



[\(https://pl.wikipedia.org/wiki/\)](https://pl.wikipedia.org/wiki/)

I. Prawidłową odpowiedź otocz kółkiem. Wydarzenia rewolucyjne, pod wpływem których powstało dzieło, rozegrały się w:

- A. Berlinie,
- B. Wiedniu,
- C. Paryżu,
- D. Warszawie.

II. Napisz rok, w którym miała miejsce rewolucja, w której brał udział malarz i która zainspirowała go do namalowania tego obrazu –

III. Prawidłową odpowiedź otocz kółkiem. Obraz ten nosi tytuł:

- A. *Narodziny Wenus,*
- B. *Wolność wiodąca lud na barykady,*
- C. *Marsylianka,*
- D. *Nocna straż.*

Zadanie 15. (0-4 pkt; 1 pkt za prawidłowe uzupełnienie całego podpunktu)

Przypisz właściwego ideologa oraz wpisz numer poglądu (od 1 do 5), który jest charakterystyczny dla tej doktryny. Odpowiedzi wybierz spośród podanych poniżej osób i poglądów.

Thomas Morus	Adam Smith	Benjamin Constant	Karol Marks
	Edmund Burke	Jan Baptysta Colbert	


1. Zakaz ingerencji państwa w produkcję i stosunki między pracodawcą a pracownikiem.
2. Aby stworzyć państwo sprawiedliwości społecznej robotnicy powinni stanąć na czele rewolucji proletariackiej.
3. Obrona konstytucji, gwarancja wolności osobistej, tolerancji religijnej i wolności prasy.
4. Najwyższą władzą w państwie jest monarcha, który nie podlega żadnym instytucjom władzy.
5. Oparcie ustroju państwa na tradycji, religii, elitach społecznych, stopniowe (parlamentarne) przeprowadzanie reform.

		Ideolog [wpisz imię i nazwisko]	Pogląd [nr]
A.	Liberalizm		
B.	Konserwatyzm		
C.	Leseferyzm		
D.	Socjalizm polityczny		

Zadanie 16. (0-3 pkt)

Na podstawie źródeł i wiedzy własnej odpowiedz na pytania.

Źródło 1.



(https://pl.wikipedia.org/wiki/J%C3%B3zef_Piłsudski)

Źródło 2. Fragment wiersza Juliusza Słowackiego:

*Ale Polak jestem prawy,
Broniący mego żywota;
Nie jestem żaden męczennik,
Ale się do śmierci bronię
I kogo mogę, zabiję,
I krew dam – a nie dam szpady... [...]
I szpadę się jako fechmistrz
Opędzał przed bagnietami;
Aż go jeden żołnierz stary
Uderzył w piersi i przebił...
Opartego na oltarzu
I na tej nodze drewnianej.*

A. Rozstrzygnij czy wiersz i obraz przedstawiają to samo wydarzenie. Właściwą odpowiedź otocz kółkiem

TAK NIE

B. Swój wybór krótko uzasadnij, odwołując się do obu źródeł –

.....

.....

.....

.....

.....

C. Napisz IMIĘ i NAZWISKO osoby, o której jest ten wiersz oraz podaj ROK jej śmierci –

.....

Zadanie 17. (0-2 pkt)

Na podstawie zdjęcia i wiedzy własnej odpowiedz na pytania. Prawidłowe odpowiedzi otocz kółkiem.

I. Na zdjęciu widoczne jest wejście do instytucji, związanej z ugrupowaniem emigracyjnym:

- A. Towarzystwem Demokratycznym Polskim,
- B. Gromadami Ludu Polskiego,
- C. Komitetem Narodowym Polskim,
- D. Obozem „Hotelu Lambert”.

II. Ta polska placówka kulturalna została założona m.in. przez:

- A. Adama Jerzego Czartoryskiego,
- B. Wiktora Heltmana,
- C. Stanisława Worcella,
- D. Joachima Lelewela.

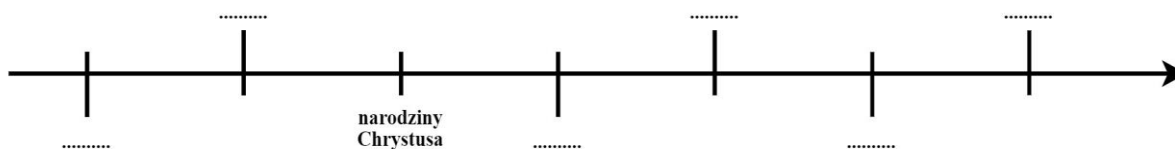


(https://pl.wikipedia.org/wiki/Biblioteka_Polska.../media/Plik:Biblioteka_polska,1October2007.jpg)

Zadanie 18. (0-1 pkt)

Ułóż na osi czasu – zgodnie z chronologią – wydarzenia, zapisując w odpowiednim miejscu oznaczenia literowe od A do F:

- A. synod w Clermont i początek krucjat,
- B. reformy Peryklesa w Atenach,
- C. początek rozbicia dzielnicowego w Polsce,
- D. życie i działalność Sokratesa,
- E. ogłoszenie niepodległości przez Belgię,
- F. utworzenie Legionów Polskich przez gen. Jana Henryka Dąbrowskiego.



BRUDNOPIS (nie podlega ocenie)